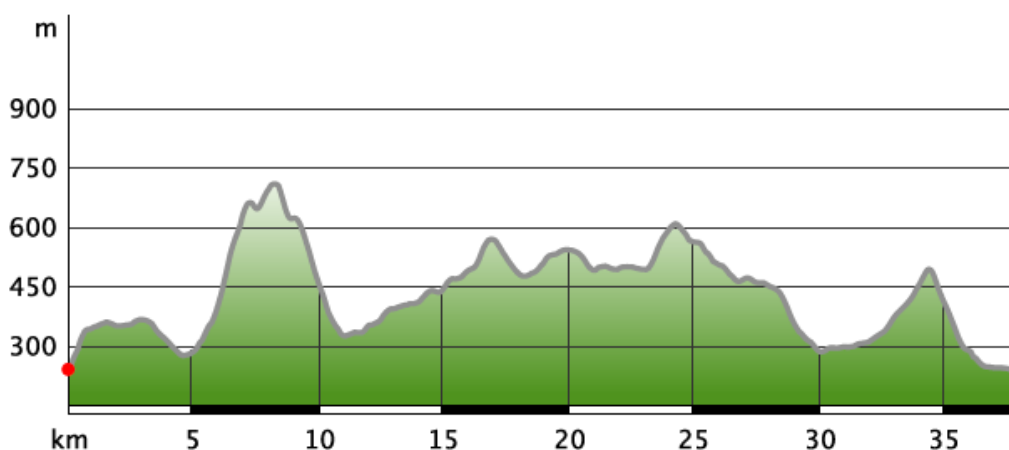


KARANCS-MEDVES 35 TELJESÍTMÉNYTÚRA RAJTLAP









Távolság: 38,3 km – Szintemelkedés: 1586 m – Szintidő: 10 óra




























































Figyelem:

Az általatok GPS-szel mért vízszintes hosszak rövidebbek lehetnek a tényleges terepi távolságoknál!

Kérjük, ne térj le a megadott útvonalról!

<i>Tszf./ Vezér jelzés</i>	<i>Ellenőrzőpont/Útvonal rövid leírása</i>	<i>Táv (km) szakasz/ össz.</i>	<i>Szint (m) szakasz/ össz.</i>
246 m	Galcsik fogadó terasza, RAJT Kérjük, jegyezd fel az indulásod dátumát és idejét:		
S  balra, lépcső, stációk S  jobbra	A terasról lejövet balra , az Alkotmány utcában tegyetek meg 240 métert. A Kálvária lépcsőn S  balra fel a stációkhoz. [S  ; S ] elágazás, S  jobbra a hármaskereszthez.	0,8	+99

Tszf./ Vezér jelzés	Ellenőrzőpont/Útvonal rövid leírása	Táv (km) szakasz/ össz.	Szint (m) szakasz/ össz.
345 m	Kálvária-tető, hármás kereszt Hány db ülőpad található a Kálvária tetején a 3 kereszt mellett? a) 1 db b) 2 db c) 3 db Kérjük, írd fel a pont elérésének idejét:	0,8	+99
S  P  S  balra	S  a Nagy-Ortásig, [P  ;S ] találkozása; P  S  balra , majd jobbra le a völgybe a [P  ;S  ;S ] csomópontig.	4,5	+134
287 m	Ceberna-völgy bejárata Hány irányba mutatnak nyilak a „Behajtani tilos” tábla melletti oszlopon? a) 6 b) 5 c) 4 Kérjük, írd fel a pont elérésének idejét:	5,3	+233
S  S  (Z  balra S  fel	Tovább a S  jelen előre, fel a Ceberna-kaptatón a Karancs-nyeregbe a [S  ;S  ;Z ] csomópontig. S  balra , figyelj, mert röviden Z  is van, ezen érnek fel az 50 km-esek!	2,2	+413
686 m	Karancs, Szent Margit kápolna Milyen évszám szerepel a kápolna bal oldalán található keresztben? a) 1880 b) 1990 c) 1896 Kérjük, írd fel a pont elérésének idejét:	7,5	+646
S  vissza, Z  S  előre, Z  S  fel	Vissza a S  jelen a nyeregbe, onnét a Z  S  előre , majd Z  S  fel a második adótoronyhoz, a [P  ; Z  ; P  ; S ] jelek találkozásához. Ezen a négy jelzésen előre a csúcshoz.	1,1	+96
727 m	Karancs-csúcs Milyen évszám szerepel a csúcst jelölő határkövön? a) 1962 b) 1963 c) 1964 Kérjük, írd fel a pont elérésének idejét:	8,6	+742
P  P  vissza P  P  le P  S  balra P  S  jobbra P  S  S 	P  P  jeleken vissza az adótoronyig, ott balra le a [P  ; S  ; P ] csomópontig (Nógrád M. Természetjárója 1. pont). P  S  balra , majd rögtön a [P  ; S  ; P ] elágnál jobbra . Az országhatárt kétszer érintve le Somoskőújfaluig, a [S ] kiágazásnál balra , a vasúti felüljáróig. Át a vasút fölött .	2,9	+30
338 m	Határ büfé Hol található a büfé házszáma? a) bejárattól balra b) bejárattól jobbra c) az ajtó fölött Kérjük, írd fel a pont elérésének idejét:	11,5	+772

<i>Tszf./ Vezér jelzés</i>	<i>Ellenőrzőpont/Útvonal rövid leírása</i>	<i>Táv (km) szakasz/ össz.</i>	<i>Szint (m) szakasz/ össz.</i>
P \square S \square P \square alagút P \oplus balra	Tovább a P \square S \square jeleken, jobbra a Baross Gábor utcán az alagútig, a [P \square ;S \square] szétválásáig. Át az alagúton a P \square -on Eresztvényig, a [P \square ;P \oplus] elágazóig. P \oplus balra a műúton!	3,7	+108
435 m	Eresztvény, Madárpark Milyen madarat mutat be a tóparti fmedve jobbán található tábla? a) szécinege b) uráli bagoly c) meggyvágó Kérjük, írd fel a pont elérésének idejét:	15,2	+880
P \oplus vissza P \square balra P \square S \square balra P \square jobbra P \triangle jobbra fel	Vissza a műúthoz a P \oplus -en, a [P \square ; P \oplus] elágazásához, innét P \square balra . A Dornay turistaház romjától (Nógrád Megye Természetjárója 2. pont), a [P \square ;S \square ;Z \square ;P \square] csomópontja], P \square S \square balra . A tisztásnál [S \square ;P \square] szétválása], P \square jobbra . A vártáblánál [P \triangle ; P \square] elágazó]; P \triangle jobbra fel	2,2	+195
614 m	Salgóvár, torony Milyen bemutató táblák vannak a tető alá téve? a) fénykép b) fa c) fém Kérjük, írd fel a pont elérésének idejét:	17,4	+1075
P \triangle vissza le P \square előre Z \square balra S \square Z \square S \square Z \square jobbra S \square Z \square balra elágazító pont S \square jobbra S \square műúton át	P \triangle -ön vissza le , a Vártáblás [P \triangle ;P \square] elágazótól, új útirány! P \square előre tovább, ne fordulj balra a felhozó ösvényen! A Salgó-nyeregben, a famókus után [Z \square ; P \square ker.] a Z \square balra . Át a parkolón, a Vár utcában a S \square és Z \square jelen egyenesen le . Salgóbánya buszforduló [S \square kiágazás]; a S \square és Z \square jobbra . A Medves Hotel parkolónál [S \square kiágazás]; S \square és Z \square balra , a kerítés után [S \square ;Z \square ;S \square ker.]; a S \square és Z \square a köves úton. Medves-fennsík, a [S \square ;Z \square] szétválása; a S \square -on jobbra le . Rónabánya, műút [Z \square kiág]; S \square keresztül a műúton	6,4	+110
515 m	Rónabánya, Tanösvényi pihenő Milyen irányú földtani szelvényt mutat be a pihenő melletti tábla? a) ÉÉNY-DDK b) É-D c) ÉK-DNY Kérjük, írd fel a pont elérésének idejét:	23,8	+1185
S \oplus balra S \triangle fel	[S \square ;S \oplus ;Z \square] elágazó a padoknál. S \oplus (és itt-ott Z \square) balra , majd [S \triangle] kiágazás az erdőben. S \triangle előre, fel . (Figyelmesen, szakadékok! Ne térjetelek le a jelzett turistaösvényről!)	1,2	+86
598 m	Szilvás-kő (tanösvény 9-es tábla) Milyen arányban tartalmaz magnetitet Szilvás-kő mágnese tulajdonságokkal rendelkező sziklafala? a) 3-4% b) 5-6% c) 7-8%	25,0	+1271

<i>Tszf./ Vezér jelzés</i>	<i>Ellenőrzőpont/Útvonal rövid leírása</i>	<i>Táv (km) szakasz/ össz.</i>	<i>Szint (m) szakasz/ össz.</i>
	Kérjük, írd fel a pont elérésének idejét:		
S▲ S+ előre le S+ jobbra S balra (S jobbra!) S előre K jobbra (K műúton ↯) (K jobbra) 3 vezeték alatt! (K balra) S jobbra	Óvatosan tovább a három hasadékbejárat alá. [S+;S▲] ker. S+ előre a sípálya tetejéhez , a katonasírokhöz. [S▲ kiág.] S+ jobbra, le a sárga sávhoz [S;S+], innét S -on balra , a (Nógrád Megye Természetjárója 3. pont) mellett tovább Szilvaskőpuszta házaihoz. Letévedős hely! S jobbra! Szilvaskőpuszta széle [S kiágazása]; S előre tovább. Hosszú-bérc [K;S]; itt letérnek az 50 km-esek! Jobbra K , majd jobbra le a völgybe. A műúton K jobbra , inászói beágazáson a K balra a sorompóig. Ne kövesd a S-t balra, a 35km K jobbra tart! Hármas vezetéksávon túl(!) , 4 lábú faoszlop után(!) K balra fel a Pécskő-nyergi cserfáig [K;P;S]. Itt S jobbra fel, a Pécs-kő alatti padokhoz (Nógrád M. Természetjárója 6. pont).	9,5	+280
495 m	Pécs-kő pihenő Hány darab pihenőhely található a Pécs-kő pihenőnél? a) 2 db b) 3 db c) 1 db Kérjük, írd fel a pont elérésének idejét:	34,5	+1551
S S P▲ balra S le	Tovább a S jelen, a Pécs-kő-szikla alatt [S;P▲;S▲] balra le a S P▲ jeleken a régi sípálya tetejéhez [P▲ kiágazó]. S le az egykori sípályán (balkézre rom!), majd tovább előre .	1,5	+35
314 m	Dolinka, játszótér Hány darab csúszda található a játszótéren? a) 1 db b) 2 db c) 3 db Kérjük, írd fel a pont elérésének idejét:	36,0	+1586
S P S balra vasúti aluljáró S Z S Z balra	A stadion bejáratnál S balra (lépcső), Acélgyári úton balra , a vasúti fénysorompónál [P;S] balra a S és P jelzésen. A Fő tér sarkánál a zebrán jobbra , át a parkon, a vasúti aluljáró [P; S; Z] túloldalán, a S , Z jeleken a zebrán át. A túloldalon, a [S] kiágazásnál a S Z jelzéseken balra!	2,3	+0
246 m	Galcsik fogadó, CÉL Kívülről nézve merre nyílik a kis üvegezett terasz ajtaja? a) jobbra b) balra c) tolóajtó Kérjük, írd fel a cél elérésének idejét:	38,3	+1586

Gratulálunk!

Reméljük, nem csalódtatok, a Karancs-Medves vidéke visszavár Benneteket!